



JSS
ShriManjunatheshwar Central School
S.NO 175, Near GangubailHangalGurukul, Shivalli Road, Unkal
Hubballi.

Mid Term Exam (2020 - 21)

Class: I

Div: ____

SUBJECT - HINDI

Marks : 40M

NAME- _____

Date: _____

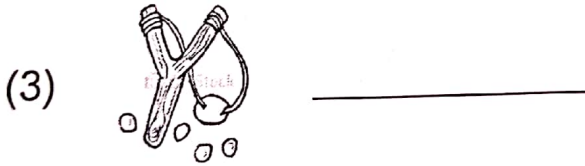


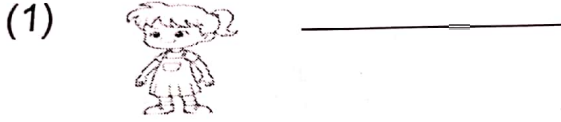
ROLL NO- _____

PART A - CREATIVE WRITING

A	B	C	D	E	T

I) चित्र देखकर रिक्त स्थान पूर्ण करे :- 5X1=5M

(a) आम की कहानी में पहले क्या आया ?



II) बक्से में दिए गए शब्दों के सहायता से वाक्य पूर्ण लिखे :- 5X1=5M

पेड, ऊपर, लडके, आदमि, घोंसले

1) _____ के हाथ में

4) पेड के _____

2) _____ के ऊपर

5) _____ के सिर पर

3) _____ में

(1)

भरकर लाई टोकरी

PART - C - Grammar

II) चित्र देखकर शब्दों से मिलाओ :-

5X1=5M




ठेला



झूला

पेड



गठरी

नल

III) जोडकर लिखो :-

5X1=5M

1) फ + ल = _____

4) ट + ब = _____

2) अ + ना + र = _____

5) गा + ज + र = _____

3) न + ट = _____

(2)

PART - D - Spellings

5X1=5M

IV) चित्र बनाओ :-

1) तारा



2) मछली



3) बादल



4) घडा



5) माला



IV) बारहखडी पुरा करो :-

5X1=5M

ठ _____

_____ ठः

स _____






_____ सः

(3)

PART – E – Literature

V) चित्र देखकर गिनती को अंको एवं शब्दों में लिखिए :-

5X1=5M

	अंक	शब्द
1) 	<input type="text"/>	<input type="text"/>
2) 	<input type="text"/>	<input type="text"/>
3) 	<input type="text"/>	<input type="text"/>
4) 	<input type="text"/>	<input type="text"/>
5) 	<input type="text"/>	<input type="text"/>

VI) अब करने की बारी

3X1=3 M

नीचे दी गई खाली जगह पर पत्तों के तीन (3) चित्र बनाओ और रंग बरो :-

VII) यह लडकी सिर पर क्या लेकर जा रही होगी ? चित्र बनाकर नाम लिखो:-

2X1=2 M

नाम लिखो : _____



-----X-----

(5)